

Orientované úsečky

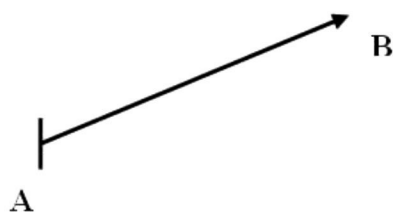
Vypracovala: PaedDr. Elena Šimová

S pojmom orientovaná úsečka sme sa stretli okrem matematiky i na fyzike, kde predstavuje vektorové fyzikálne veličiny, na ktorých určenie treba poznať nielen ich veľkosť, ale i smer.

Orientovanú úsečku **označujeme \vec{AB}** (v literatúre len tučným písmom).

Úsečka AB je množina všetkých bodov, ktoré ležia na priamke medzi dvomi bodmi A a B, vrátane nich.

DEF: Orientovaná úsečka AB je úsečka AB, ktorej krajné body A a B majú určené poradie. Bod **A** nazývame **počiatočný bod** (začiatočný bod, začiatok), bod **B** nazývame **koncový bod** (koniec).



Nulová orientovaná úsečka AA má začiatočný a koncový bod totožný, teda A.

DEF: Veľkosť orientovanej úsečky AB nazývame veľkosť $|AB|$ úsečky AB (pri zvolenej jednotkovej úsečke). **Nulovej orientovanej úsečke** priradujeme veľkosť **nula**. **Veľkosť úsečky AB** je nezáporné reálne číslo, ktoré vyjadruje akým násobkom zvolenej jednotkovej úsečky je úsečka AB.

Pozn.: Veľkosť orientovanej úsečky AB môžeme vypočítať ako **vzdialenosť bodov A, B v danej súradnicovej sústave**.

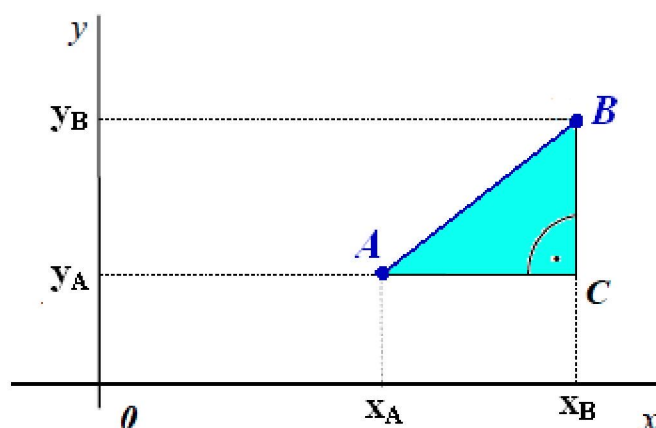
Vzdialenosť dvoch bodov na priamke

Vzdialenosť dvoch bodov $A=[x_A]$, $B=[x_B]$ na číselnej osi sa rovná absolútnej hodnote rozdielu reálnych čísel x_A a x_B , t.j. rozdielu ich súradníc:

$$|A, B| = |AB| = |x_B - x_A| = \sqrt{(x_B - x_A)^2} \quad (1)$$

Vzdialenosť dvoch bodov v rovine

Vzdialenosť dvoch bodov $A=[x_A; y_A]$, $B=[x_B; y_B]$ v rovine určíme ako veľkosť prepony pravouhlého trojuholníka ABC:



$$|AC| = |x_B - x_A|, \quad |BC| = |y_B - y_A|$$

$$|A, B| = |AB| = \sqrt{(x_B - x_A)^2 + (y_B - y_A)^2} \quad (2)$$

Príklad 3: Vypočítajte vzdialenosť bodov $P = [-3; 2]$, $Q = [-7; -1]$

Riešenie: $|P, Q| = \sqrt{(-3+7)^2 + (2+1)^2} = \sqrt{16+9} = 5$

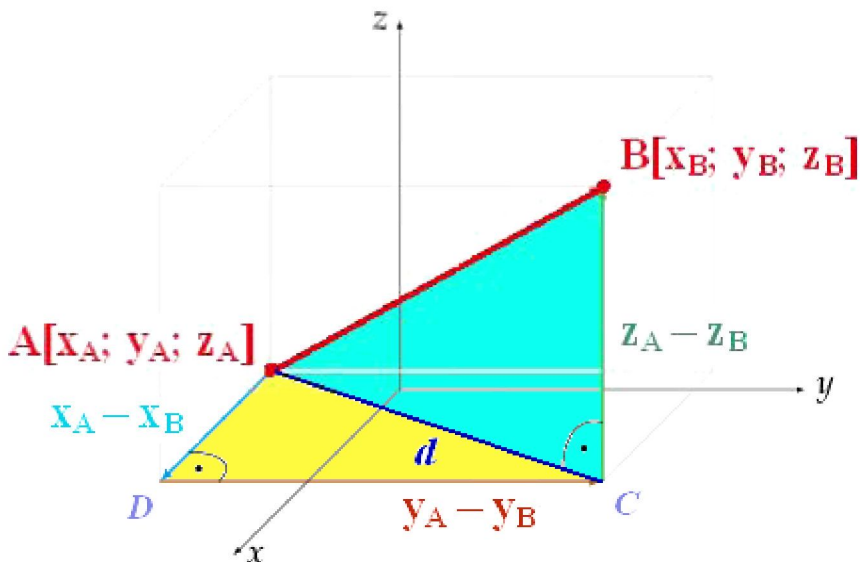
Vzdialenosť dvoch bodov v priestore

Vzdialenosť dvoch bodov $A=[x_A; y_A; z_A]$, $B=[x_B; y_B; z_B]$ v rovine určíme ako veľkosť prepony pravouhlého trojuholníka ABC s využitím pravouhlého trojuholníka ACD:

$$\Delta ACD: d^2 = (x_A - x_B)^2 + (y_A - y_B)^2$$

$$\Delta ABC: |AB|^2 = d^2 + (z_A - z_B)^2 = (x_A - x_B)^2 + (y_A - y_B)^2 + (z_A - z_B)^2 \Rightarrow$$

$$|A, B| = |AB| = \sqrt{(x_B - x_A)^2 + (y_B - y_A)^2 + (z_A - z_B)^2} \quad (3)$$

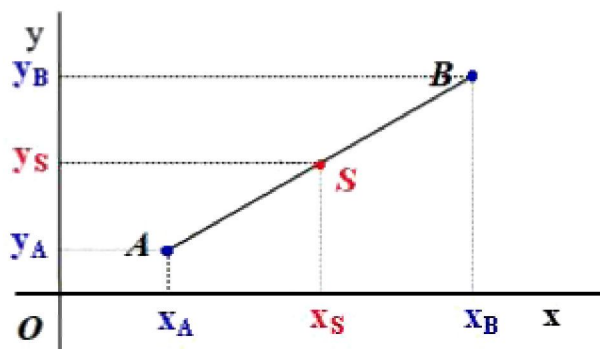


Príklad 4: Určte, či $\triangle ABC$ s vrcholmi $A = [-1; 5; 1]$, $B = [3; -2; -1]$ a $C = [-3; 2; 1]$ je pravouhlý.

Riešenie: $|AB| = \sqrt{(3+1)^2 + (-2-5)^2 + (-1-1)^2} = \sqrt{69}$
 $|BC| = \sqrt{(-3-3)^2 + (2+2)^2 + (1+1)^2} = \sqrt{56}$
 $|AC| = \sqrt{(-3+1)^2 + (2-5)^2 + (1-1)^2} = \sqrt{13}$,
 ... $56 + 13 = 69 \Rightarrow \triangle ABC$ je pravouhlý

Stred úsečky

Bod S je *stredom úsečky AB* práve vtedy, ak platí $|AS| = |BS|$



Pre súradnice bodu S platí: $x_S = \frac{x_A + x_B}{2}$ a $y_S = \frac{y_A + y_B}{2}$

Podobným spôsobom v trojrozmernom priestore platí: $z_S = \frac{z_A + z_B}{2}$

Záver: Pre súradnice *stred* úsečky AB v rovine platí: $S = \left[\frac{x_A + x_B}{2}, \frac{y_A + y_B}{2} \right]$ (4)

Pre súradnice *stred* úsečky AB v priestore platí: $S = \left[\frac{x_A + x_B}{2}, \frac{y_A + y_B}{2}, \frac{z_A + z_B}{2} \right]$ (5)

Symbolický zápis: $S = A \div B$ alebo $S = \frac{A+B}{2}$

Príklad 5: Vypočítajte súradnice stred S úsečky AB , ak $A = [3; 1; -2]$, $B = [-1; 3; -4]$

Riešenie: $S = \left[\frac{3-1}{2}, \frac{1+3}{2}, \frac{-2-4}{2} \right] = [1; 2; -3]$

Trocha matematickej „fantázie“:

Na základe výsledkov (1) až (5) môžeme predpokladať, že pre body v ľubovoľnom *n-rozmernom* priestore, kde $n \in \mathbb{N}$ platí:

$$A=[a_1; a_2; a_3; \dots; a_n] \wedge B=[b_1; b_2; b_3; \dots; b_n] \Rightarrow$$

$$\Rightarrow |A, B| = |AB| = \sqrt{(a_1-b_1)^2 + (a_2-b_2)^2 + (a_3-b_3)^2 + \dots + (a_n-b_n)^2}$$

$$\Rightarrow S = A \div B = \left[\frac{a_1+b_1}{2}, \frac{a_2+b_2}{2}, \frac{a_3+b_3}{2}, \dots, \frac{a_n+b_n}{2} \right]$$

Krása tej fantázie je v tom, že *tie vzťahy sú pravdivé* a na základe nich dokážeme vypočítať *dĺžku úsečky* alebo *súradnice jej stred* napriek tomu, že si tú úsečku nedokážeme v 3-rozmernom priestore ani predstaviť, pokiaľ to budeme počítat' pre $n \geq 4$.

A práve aj v takýchto záveroch sa skrýva

KRÁSA MATEMATIKY

Úlohy :

1. V akom vzťahu sú obrazy bodov $K=[1; -3]$, $L=[-1; -3]$, $M=[-1; 3]$, $N=[1; 3]$?
2. V O_{xyz} zobrazte body $P[1; 2; 3]$, $Q[1; 2; -3]$, $R[1; -2; 3]$
3. Vypočítajte vzdialenosť bodov: a) $K=[3]$, $L=[-7]$
b) $L=[-1; 1]$, $M=[12; -5]$, $N=[-4; 0]$ od bodu $O=[0; 0]$
a určte obvod $\triangle LMN$
c) $P[0; -2; 1]$, $Q[3; 4; 1]$
4. Určte súradnice bodu B tak, aby bod $S=[2; 3]$ bol stredom úsečky AB, ak $A=[3,5; -2]$.
5. Vypočítajte súradnice stredu úsečky AB: a) $A[3; -1; 6]$, $B[5; 1; -8]$
b) $A[2; -4; 6]$, $B[-2; 2; -6]$